

绝密★启用前

2018年普通高等学校招生全国统一考试（天津卷）

文科综合 地理部分

文科综合共 300 分，考试用时 150 分钟。

地理试卷分为第 I 卷（选择题）和第 II 卷（非选择题）两部分，第 I 卷 1 至 4 页，第 II 卷 5 至 7 页，共 100 分。

答卷前，考生务必将自己的姓名、准考证号填写在答题卡上，并在规定位置粘贴考试用条形码。答卷时，考生务必将答案涂写在答题卡上，答在试卷上的无效。考试结束后，将本试卷和答题卡一并交回。

祝各位考生考试顺利!

第 I 卷

注意事项:

1. 每题选出答案后，用铅笔将答题卡上对应题目的答案标号涂黑。如需改动，用橡皮擦干净后，再选涂其他答案标号。
2. 本卷共 11 题，每题 4 分，共 44 分。在每题给出的四个选项中，只有一项是最符合题目要求的。

结合图 1 和图 2 中的信息，回答 1~2 题。



图 1 某地景观图

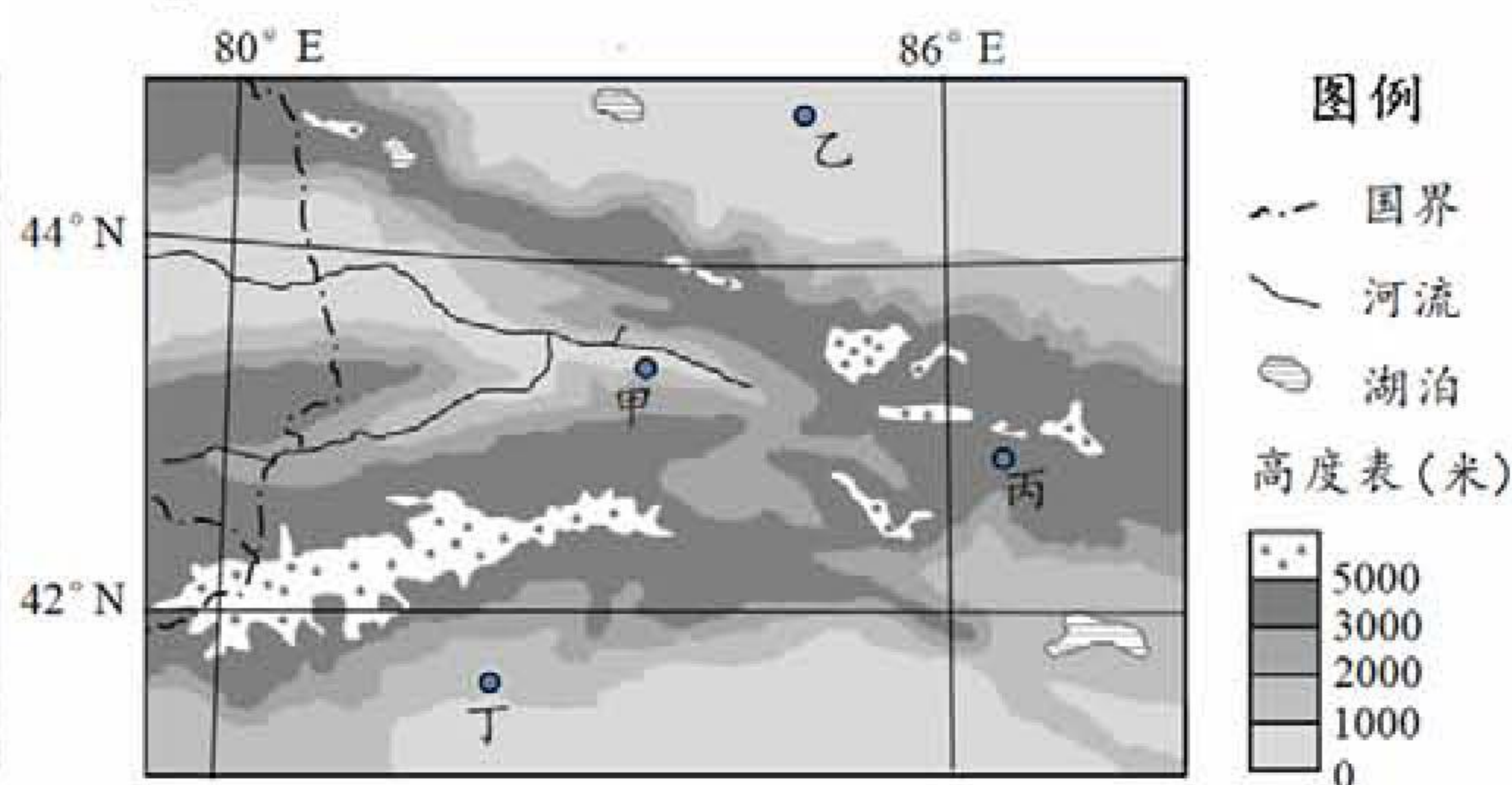


图 2 天山西部及附近地区地形图

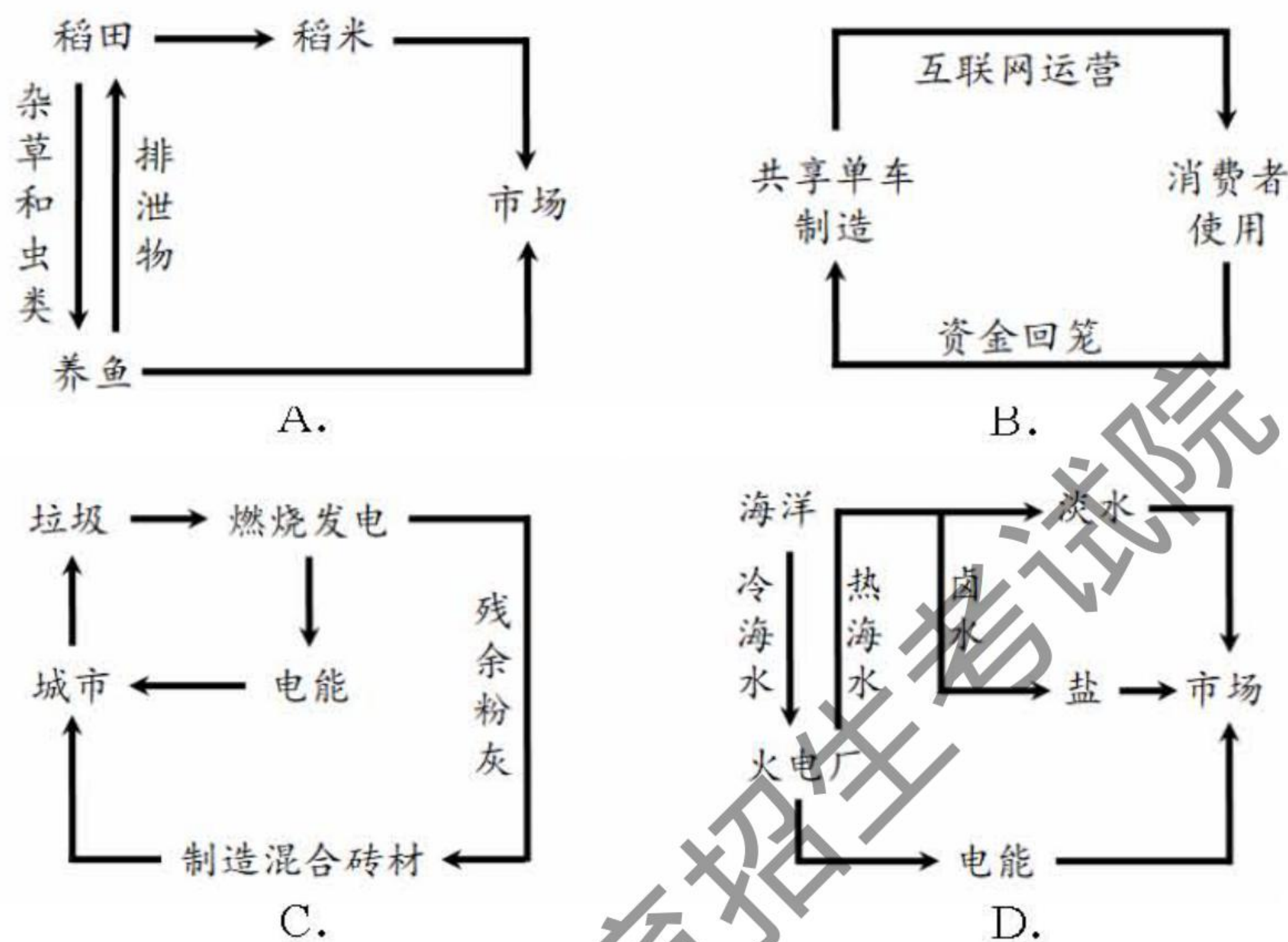
1. 最有可能观察到图 1 中景观的地点，是图 2 中的
A. 甲地
B. 乙地
C. 丙地
D. 丁地

6. 科学家们在推断海平面上升所淹没的陆地范围时，不作为主要依据的是

- A. 沿海地区的海拔高度
- B. 海水受热膨胀的幅度
- C. 全球冰川融化的总量
- D. 潮汐规模和洋流方向

循环经济是低碳经济的重要形式之一。循环经济旨在生产过程中对物质资源循环高效利用，实现无害、减量排放。天津市采用了许多循环经济的模式。

7. 在下列经济活动中，不属于循环经济的是



天津广播电视塔（简称“天塔”）高度约415米。读图文材料，回答8~9题。



图5 “天塔”景观照片



图6 “天塔”位置示意图

8. 拍摄到该照片的时间（北京时间）最可能介于

- A. 5:00~7:00
- B. 8:00~10:00
- C. 12:00~14:00
- D. 15:00~17:00

9. 拍摄到该照片的日期最可能介于

- A. 1月15日到2月15日
- B. 3月1日到3月30日
- C. 5月15日到6月15日
- D. 10月1日到10月30日

读图文材料，回答 10~11 题。

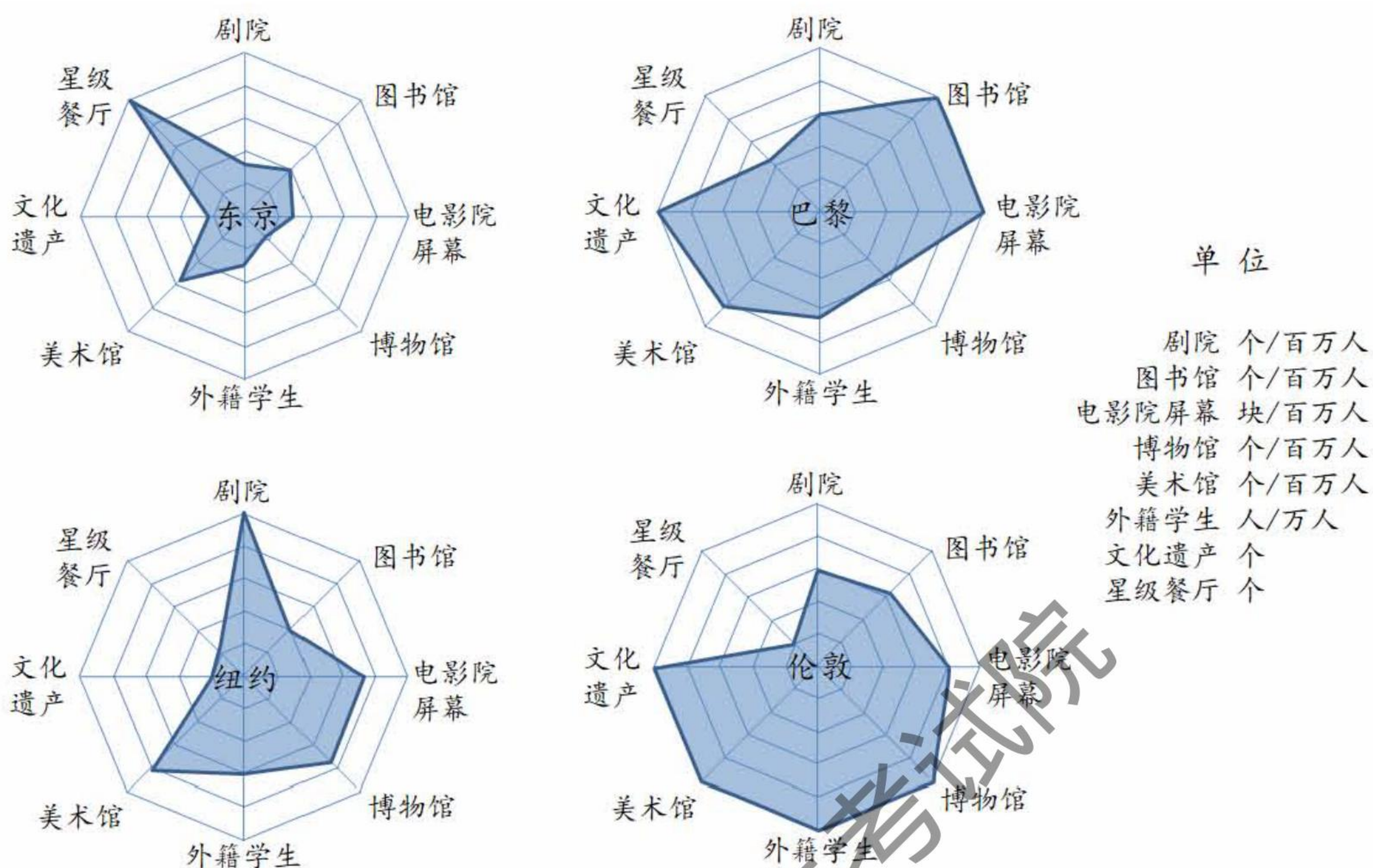


图 7 四城市文化服务设施、星级餐厅、外籍学生数量统计图

表 1 2016 年四城市基本情况统计表

城市名称	人口数量 (万人)	城市面积 (平方千米)	经济总量 (万亿美元)
东京	1351	2155	0.95
巴黎	1060	2845	0.74
纽约	833	798	0.90
伦敦	978	1738	0.52

10. 依据图表信息，对四城市地域文化的正确推断是
- A. 东京众多的星级餐厅，是构成该市地域文化的主体
 - B. 巴黎地域文化的标志是美术馆、电影院屏幕总量最多
 - C. 纽约人喜爱观赏戏剧，是该市地域文化的特征之一
 - D. 伦敦地域文化特色突出，体现为外籍学生、博物馆多
11. 四城市相比，经济功能比文化功能突出的一组城市是
- A. 东京、纽约
 - B. 纽约、伦敦
 - C. 东京、巴黎
 - D. 巴黎、伦敦

绝密★启用前

2018 年普通高等学校招生全国统一考试（天津卷）

文科综合 地理部分

第 II 卷

注意事项：

1. 用黑色墨水的钢笔或签字笔将答案写在答题卡上。
2. 本卷共 3 题，共 56 分。

12. (15 分) 读图文材料，回答问题。

我国福建省的武夷山景区有丹霞地貌景观和九曲溪等河流。游客乘筏沿九曲溪可观赏到“曲曲山回转，峰峰水抱流”的美景。

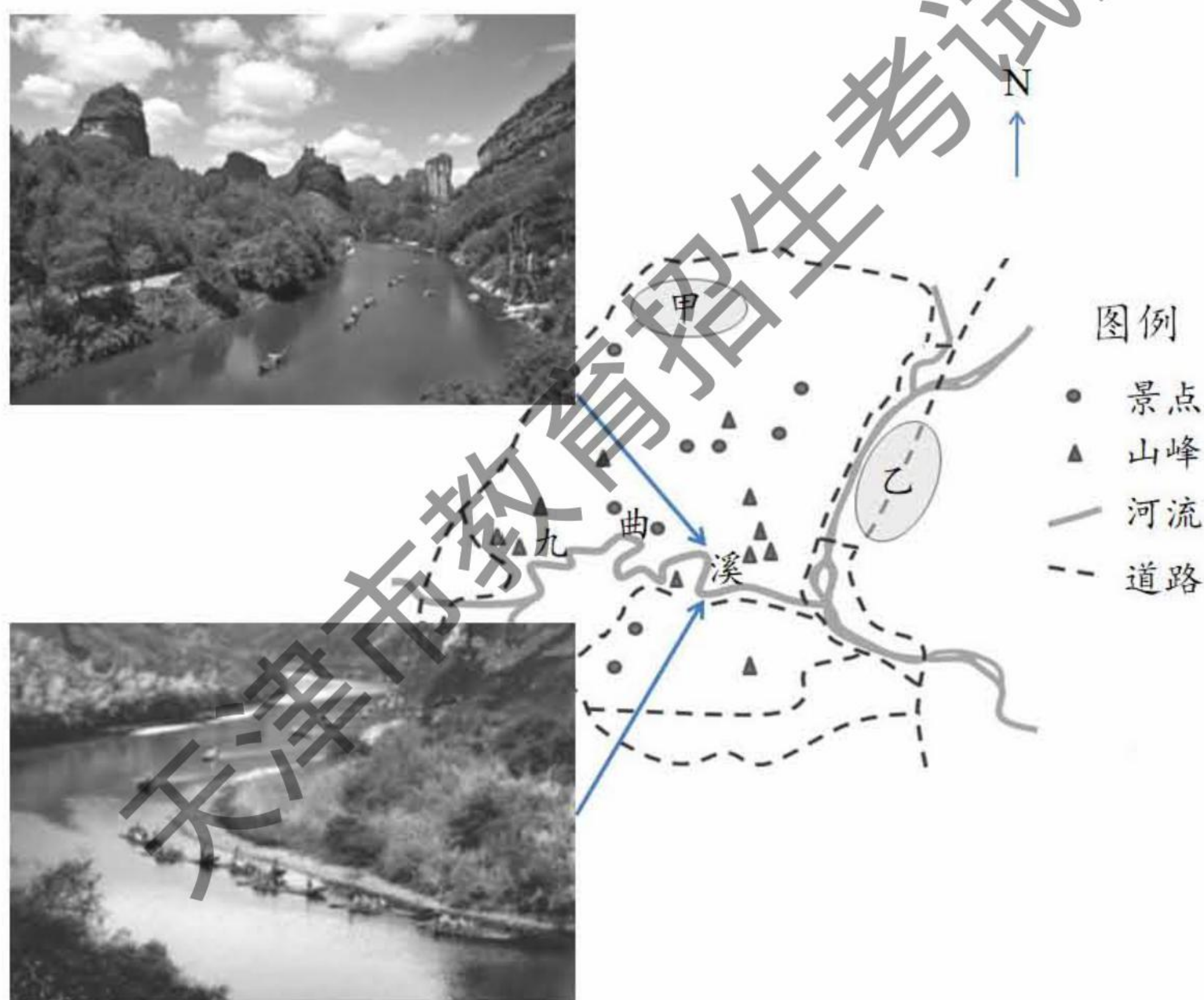


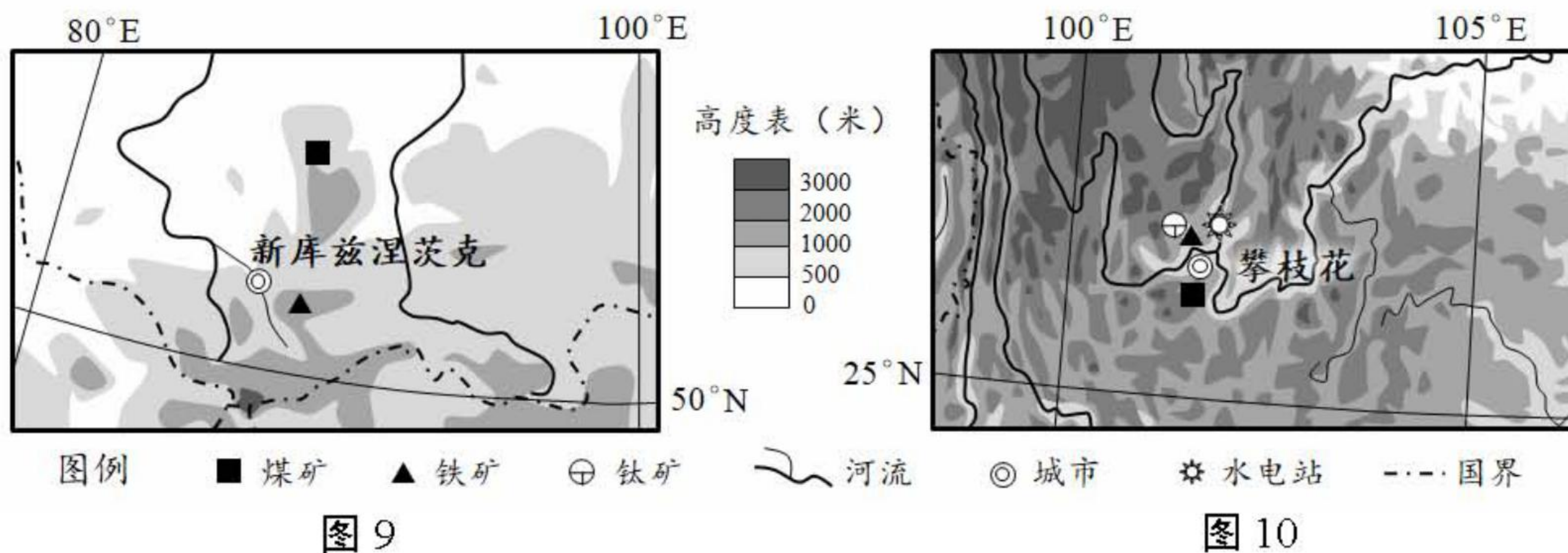
图 8 武夷山景区示意图

(1) 说明九曲溪适宜游客乘筏观景的主要自然原因。(9 分)

当地政府按规划将景区内的村落集中安置到甲区，并将旅游服务设施统一建在乙区。

(2) 说明此规划的实施对武夷山景区的意义。(6 分)

13. (20分) 读图文材料, 回答问题。



我国的攀枝花市与俄罗斯的新库兹涅茨克市都是本国重要的钢铁工业城市。

- (1) 两市发展钢铁工业共同的有利条件是靠近煤、铁矿产和水源, 不同的有利自然条件有哪些? 请各举一例。(6分)
- (2) 新库兹涅茨克市所在地区适宜温带作物生长, 攀枝花市所在地区适宜亚热带作物生长。这种现象体现了_____地带性规律。攀枝花市所在地区还能种植热带、温带作物, 说明其自然原因。(8分)

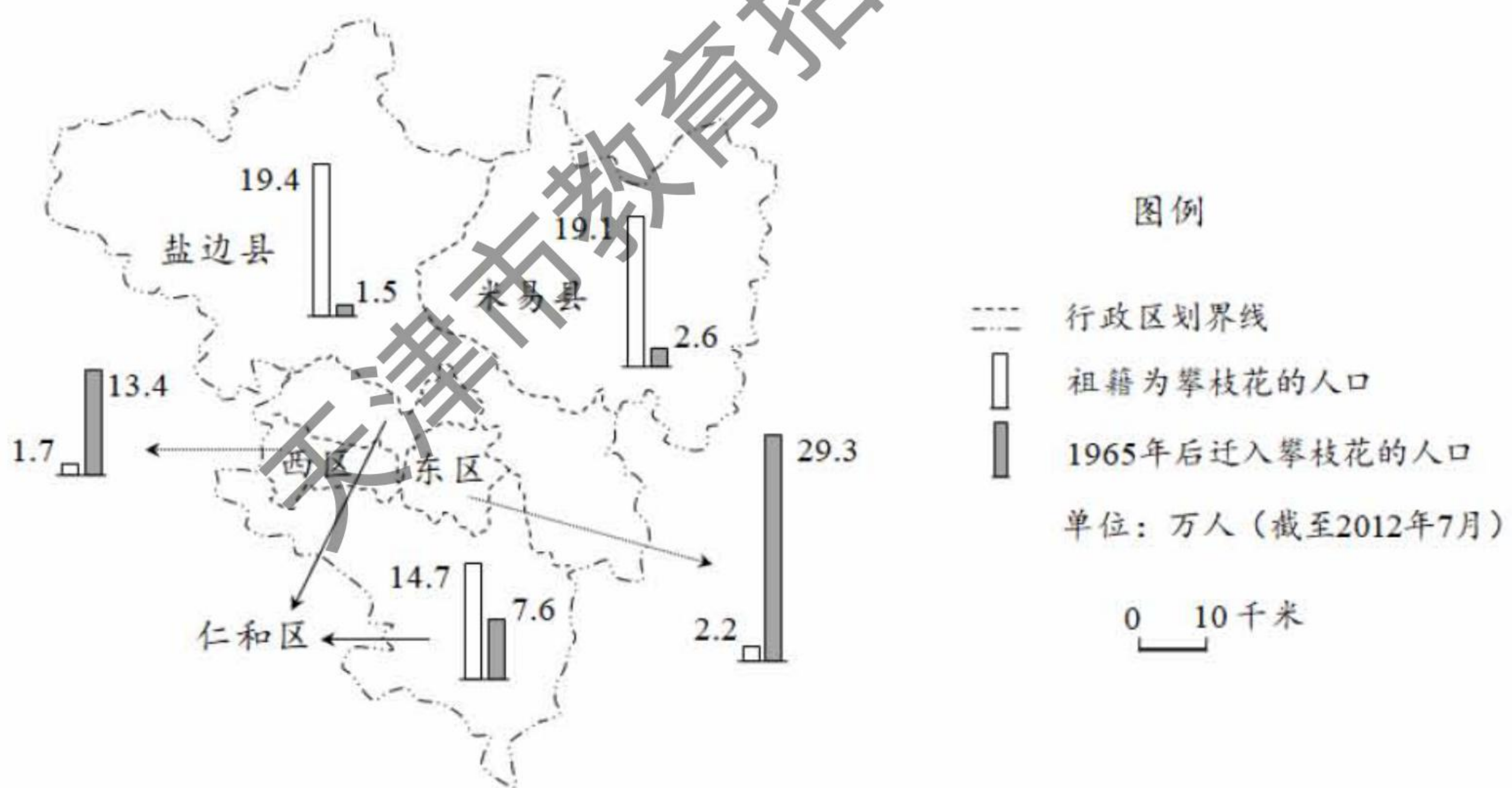


图 11 攀枝花市人口统计图

攀枝花市是 20 世纪 60 年代中期随着矿产资源的开发, 由乡村发展起来的工业城市。

- (3) 据图 11 中信息, 概括攀枝花市人口分布的两个特点。(6分)

14. (21分) 读图文材料, 回答问题。

《京津冀协同发展规划纲要》明确了京、津、冀在协同发展中的战略定位。(如图 12 文字所示)

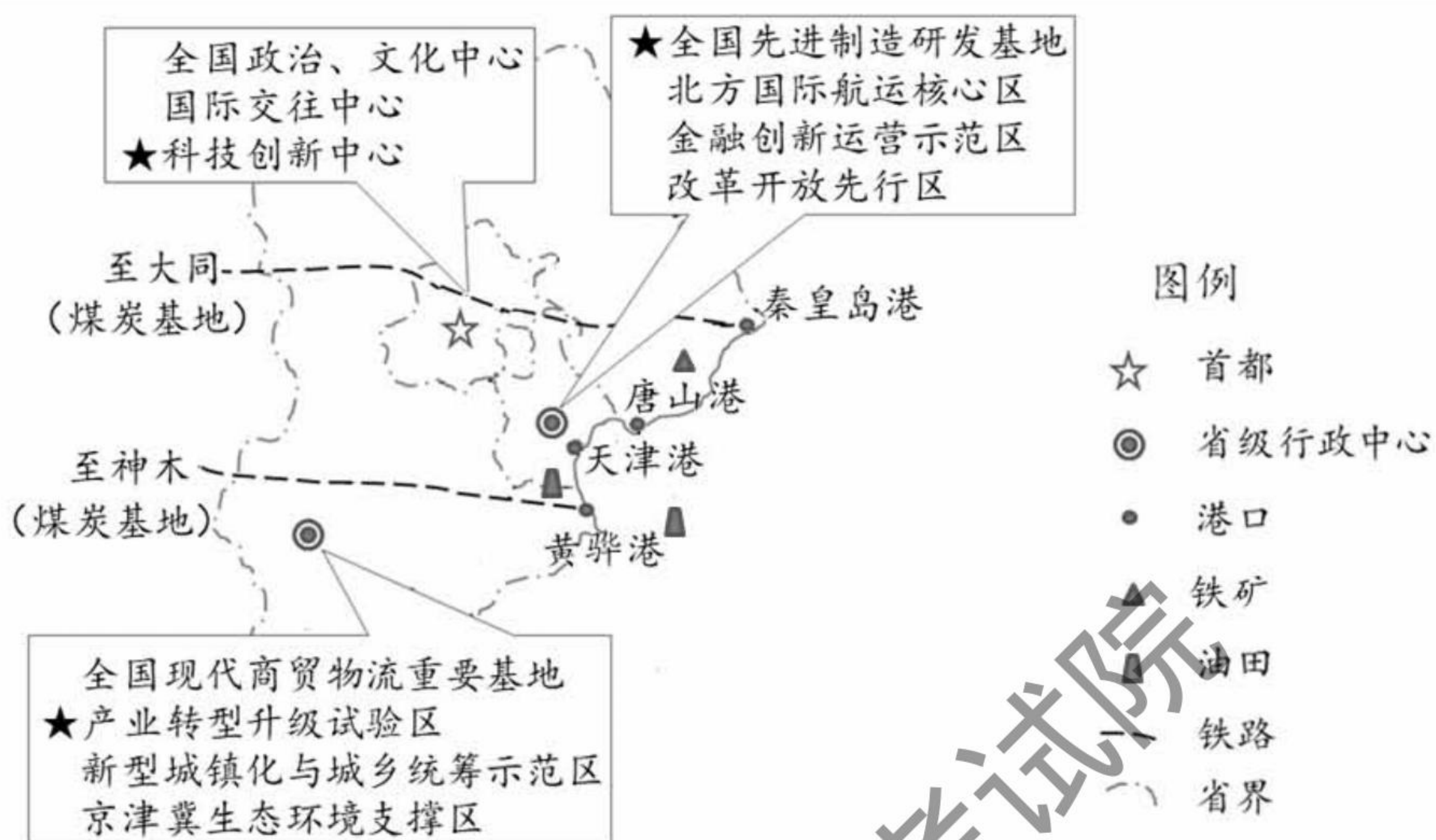


图 12

(1) 图 12 中★所示内容是京、津、冀的产业发展定位, 请分别列举三地实现各自产业发展定位最具优势的一项区位条件。(9分)

为实现天津市“北方国际航运核心区”的定位, 天津港将原有的煤炭、石油、矿石运输业务分别转移到周边其他港口(秦皇岛港、黄骅港和唐山港)。

(2) 这对天津港和周边其他港口分别有何好处?(6分)

河北省为落实“京津冀生态环境支撑区”的定位, 因地制宜采取了相应措施。

(3) 为保护生态环境, 河北省的山区和平原地区在农业方面应分别采取何种措施?(6分)